









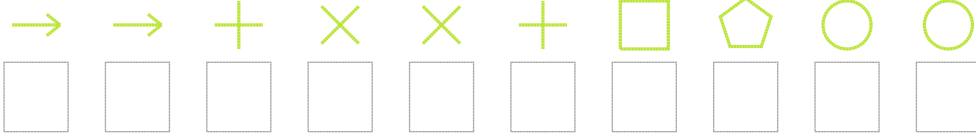


Şekil Sayı Eşleştirme

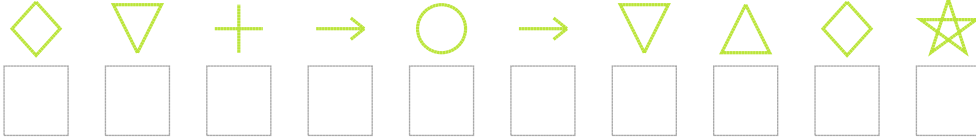
 = 3	 = 8	 = 6	 = 4	 = 2	 = 0	 = 1	 = 9	 = 7	 = 5
--	--	--	--	--	--	---	--	--	--

Aşağıdaki uzun şifreleri hatasız çözerek altlarına yazın:

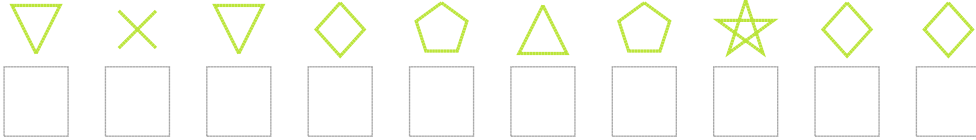
1. Şifre



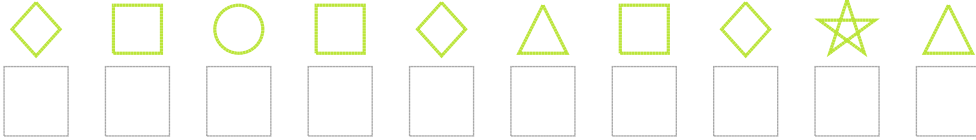
2. Şifre



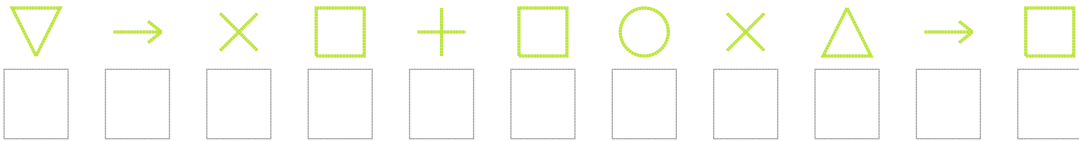
3. Şifre



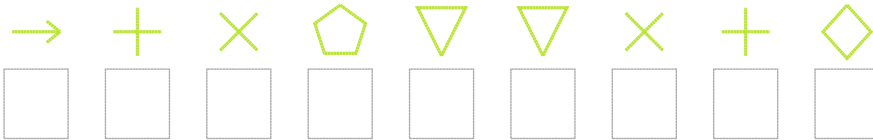
4. Şifre



5. Şifre



6. Şifre



7. Şifre



❑ BONUS: 4. ve 3. şifrenin ikinci rakamının toplamı kaçtır?

Cevap Anahtarı

1. Şifre: 1120025788

2. Şifre: 4621816943

3. Şifre: 6064797344

4. Şifre: 4585495439

5. Şifre: 61052580915

6. Şifre: 120766024

7. Şifre: 5492877324

□ Bonus Soru Cevabı: 5